

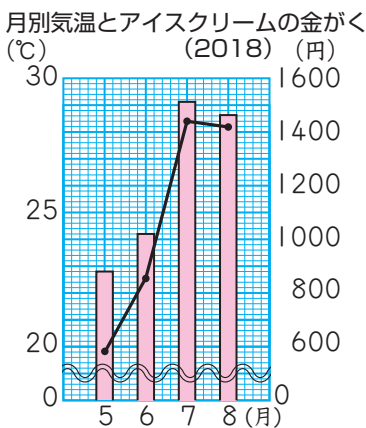
2. 折れ線グラフ

今までに習ったことを使って考えてみよう。

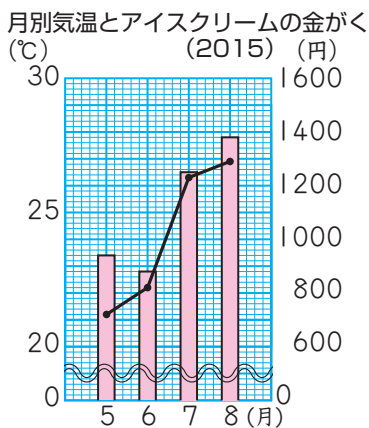


下のような3つのグラフ①～③があります。①は2018年、②は2015年について、ある都市の気温の変わり方を折れ線グラフに、アイスクリームを買うのに使った金がかくをばうグラフに、それぞれ表したものです。③は、2018年と2015年の気温を、それぞれ折れ線グラフに表したものです。□にあてはまる数を書きましょう。

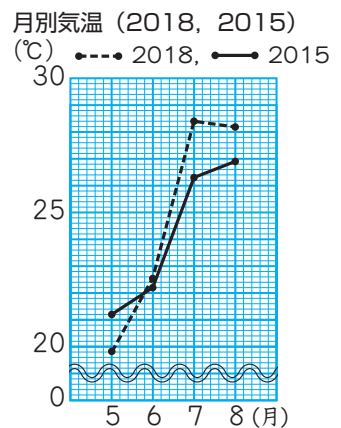
①



②



③



「家計調査」(総務省)より作成



①のグラフを見ると、気温の変わり方とアイスクリームの金がかくの変わり方はおなじだね。



②の2015年のグラフの□月と□月の間を見ると、気温は上がっているのに金がかくは下がっているよ。



③のグラフを見ると、気温が上がる変わり方が□年よりも□年の方が小さいよ。気温の上がり方が小さいと、金がかくが少なくなることもあるんだね。